

N 234

Шифр участника _____

Муниципальный этап всероссийской олимпиады школьников по технологии
2019-2020 учебный год
«Культура дома и декоративно-прикладное искусство»
8-9 класс

Задания теоретического конкурса

1. В Древнем Египте этот овощ был обязательным компонентом меню рабов. Его добавляли к похлебке в профилактических целях. «Главных обитателей пирамид» – фараонов, полагалось хоронить с этим овощем. Считалось, что он может пригодиться по дороге в загробный мир. В Средние века он пользовался не меньшим уважением. Рыцари, трубадуры, знатные дамы и простые крестьянки непременно носили его с собой чтобы защититься от дурного глаза и прочей нечисти. Спустя столетия ученым удалось найти объяснение лечебным свойствам этого овоща. Своей полезностью он прежде всего обязан веществу под названием аллиин, именно он придает овощу остроту и специфический запах. Сам по себе аллиин не приносит организму особой пользы. Но как только вы начинаете резать, давить или жевать его, аллиин превращается в аллицин – природный антибиотик. Аллицин способен справиться с воспалениями, подавить размножение болезнетворных бактерий, повысить иммунитет и защитить от вирусов и инфекций.
О каком овоще идет речь? чеснок

2. Назовите вид тепловой обработки. припускание - это приготовление пищи в небольшом количестве жидкости (воды, бульона) чуть ниже точки кипения в плотно закрытой посуде. При таком способе готовки максимально сохраняются вкусовые и питательные свойства продуктов.

3. Отметьте знаком «+» все правильные варианты ответов.

Из пшеничной крупы получают:

- a) пшено;
- б) полтавскую крупу;
- в) овсяные хлопья;
- г) манную крупу.

4. Впишите ответ.

Различные виды продуктов обрабатывают на отдельных разделочных досках. Доски различают по буквенным обозначениям. Что означает буквенное обозначение на ребре доски НХ?

Ответ: доска для хлеба

5. Какая технология имеет отношение к технологиям приготовления пищи?

- a) 3D-печать;
- б) фудпейринг;
- в) «умный дом».

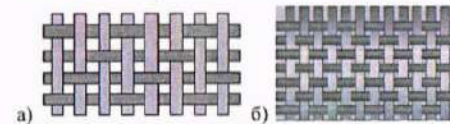
6. Название _____ (от лат. *crinis*, волос, и *linum*, лён) — изначально жёсткая льняная или хлопковая ткань с основой из конских волос, позднее — жёсткая структура, предназначенная для придания юбке требуемой формы.



7. В современных технологиях широко используется приём, называемый биомиметикой, суть которого состоит в том, чтобы «подсмотреть» и повторить успешное решение проблемы, которое использует сама природа. Так была получена застёжка, принцип действия которой заимствован у репейника. Как она называется? молния



8. Схемы каких ткацких переплетений показаны на рисунке?



Ответ: а) саржа б) палытшечное

9. Закончи предложение: Сырьем для получения натурального волокна животного происхождения являются шерсть и бобовые туловища

10. Какие волокна не относятся к синтетическим (выберите несколько вариантов ответов)?

- a) акрил;
- б) вискоза;
- в) ацетат;
- г) нейлон;
- д) эластан.

11. Восстановите последовательность символов, вписав рядом с цифрой соответствующую букву.

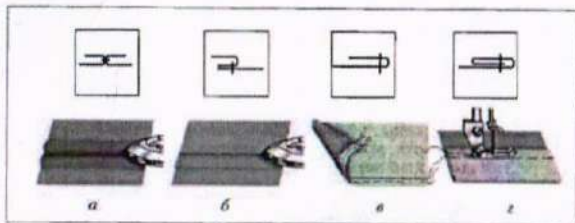
1.		2	a) Не отпаривать
2.		б	б) Гладить при высокой температуре до 200С
3.		а	в) Гладить при средней температуре до 150С
4.		б	г) Можно гладить

12. Какая машинная операция показана на фотографии?



0,5
 Ответ: устраивание

13. Внимательно рассмотрите рисунок. Какие машинные швы показаны на рисунке?



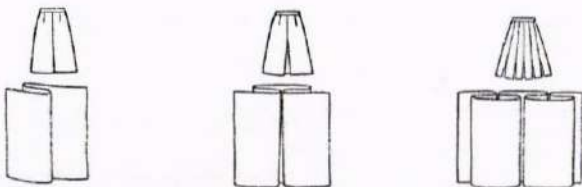
1
 Ответ:

- а) впередный
 б) свертывающий, впередный
 в) красочный, назад
 г) в подгибку

14. Для обметывания срезов деталей из сильноосыпающихся тканей выбирают зигзагообразную строчку:

- 1
 а) с большой шириной стежка и малой длиной стежка;
 б) с большой шириной стежка и большой длиной стежка;
 в) с маленькой шириной стежка и большой длиной стежка;
 г) с маленькой шириной стежка и маленькой длиной стежка.

15. Определите и подпишите названия представленных ниже вариантов складок на юбке.



- а) простой б) двойной в) волан

1
 16. Какую мерку необходимо учитывать при расчете ширины прямой юбки:
 а) Сш б) Ст в) Сб г) Дтс д) Ди

1
 17. Расширение прямой юбки по линии низа может быть выполнено:

- а) увеличением ширины заднего полотнища
 б) увеличением ширины переднего полотнища
 в) закрытием вытачек по линии талии
 г) дополнительными разрезами

1
 18. Технику, в которой выполнена эта работа порой называют живописью на ткани. Известна она с глубокой древности и каждый народ привнес в неё свои неповторимые особенности. Как называется данная техника?

Ответ: вышивер



1
 19. Умеренный полив комнатных растений – это полив:

- а) каждый день;
 б) через день-два;
 в) раз в неделю;
 г) раз в месяц.

—
 20. Какие комнатные растения можно использовать в лечебных целях?

- а) алоэ
 б) диффенбахия;
 в) каланхоэ;
 г) плющ;
 д) герань.

—
 21. Какие современные напольные покрытия вы знаете? Запишите три из них.

Ответ: _____

—
 22. Как называется горизонтальная декоративная драпировка, расположенная в верхней части шторной композиции, проёма окна или двери в виде короткого декоративного элемента во всю ширину карниза?

Ответ: подхваты, ламбрекен, доска, плинт

1
 23. Для комфортного проживания интерьер комнаты зонирован.

Посмотрите внимательно на проект комнаты. На какие зоны комната девочки поделена?

зона отдыха
зона сна
зона для работы



24. Вставьте пропущенное слово, выбрав его из представленного ниже списка.

Под «умным» домом следует понимать систему, которая обеспечивает энергоэффективность, ресурсосбережение и комфорт для всех пользователей.

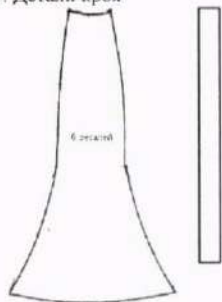
Слова для выбора: стабильность, надежность, безопасность, эстетичность.

эстет

25. Творческое задание.

Даны детали кроя юбки.

1. Проставьте номера на деталях кроя. В соответствии с номерами подпишите названия и количество деталей кроя.
2. Выполните эскиз модели в соответствии с деталями кроя.
3. Опишите внешний вид модели по предложенной форме.



195

25

- 1 - юбка - 6 шт
 - 2 - полоса - 1 шт
2. Эскиз

**Муниципальный этап всероссийской олимпиады школьников по технологии
2019-2020 учебный год
«Культура дома и декоративно-прикладное искусство»
8-9 класс**

Практическое задание по моделированию

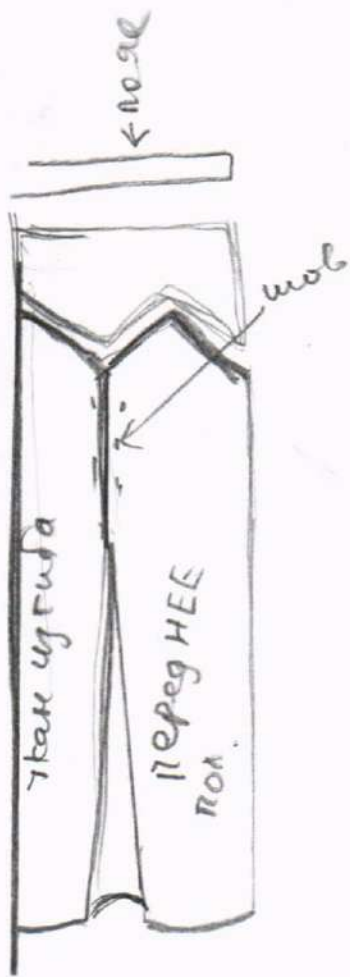
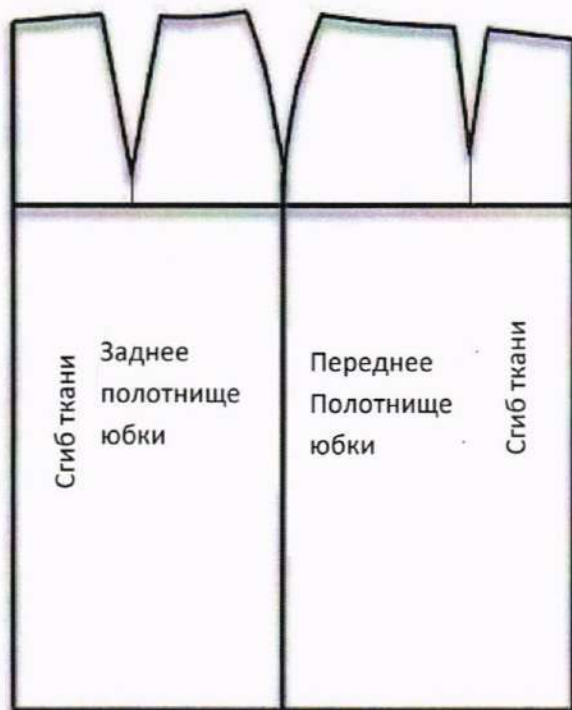
Задание:

1. Внимательно прочитайте описание модели и рассмотрите эскиз.
2. Найдите различия с базовой конструкцией юбки (см. «Чертеж основы прямой юбки»).
3. В соответствии с эскизом нанесите новые фасонные линии и обозначьте ваши действия по моделированию на чертеже основы юбки (см. «Контроль практического задания»). Используйте для этого стрелки, значки, список, алгоритм действий и т. д.
4. Перенесите линии фасона на шаблон из цветной бумаги.
5. Изготовьте из цветной бумаги детали выкройки для раскладки на ткань.
6. Аккуратно наклейте детали выкройки на лист «Результаты моделирования».
7. Нанесите на детали выкройки необходимые надписи для раскроя.

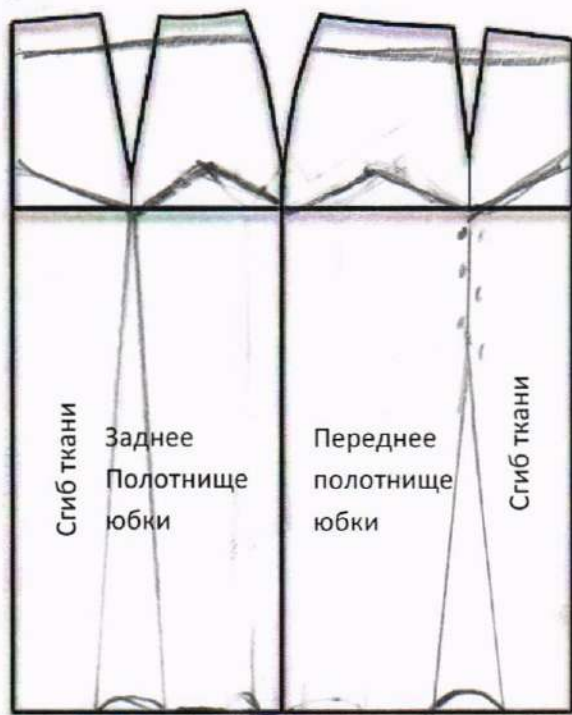
Эскиз	Описание модели
	<p>Юбка из шерстяной ткани незначительно расширенная к низу, выкроенная по долевой нити.</p> <p>Переднее и заднее полотнище оформлены фигурной «М»-образной кокеткой.</p> <p>С начала углов кокетки на заднем и переднем полотнище юбки заложены встречные складки.</p> <p>Средний шов на заднем полотнище отсутствует.</p> <p>Линия талии оформлена притачным поясом.</p> <p>Застежка «молния» находится в левом боковом шве.</p>

~~234~~ 55

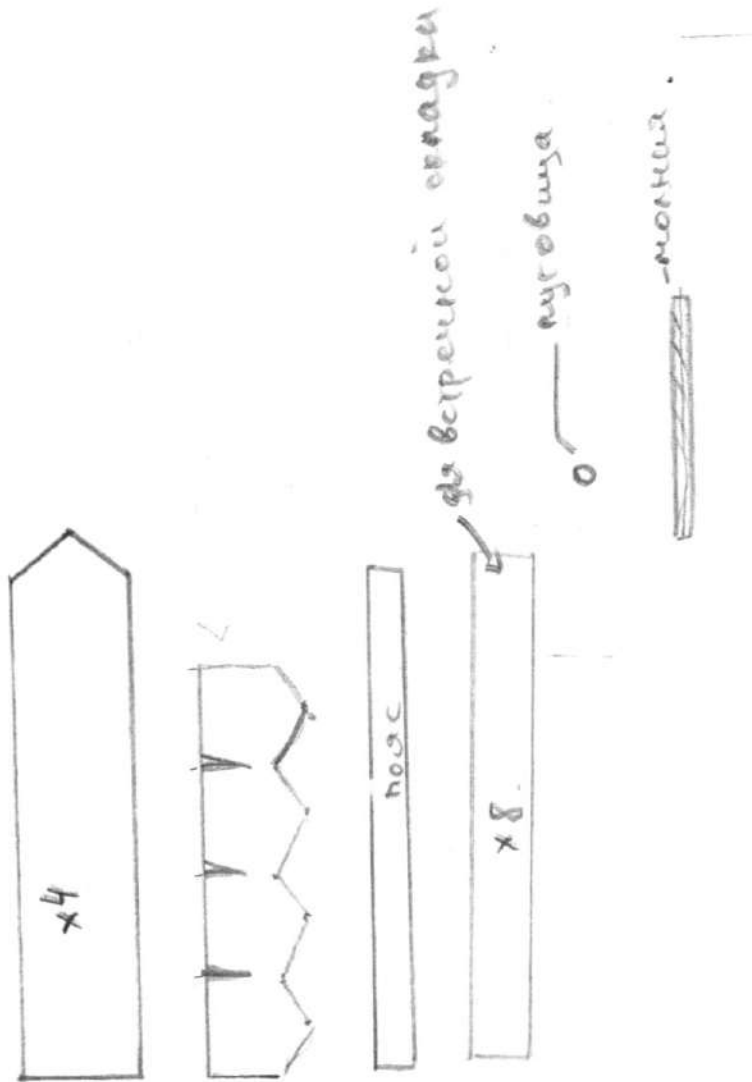
Чертеж основы прямой юбки



Контроль практического задания




Результаты моделирования



234

Карта пооперационного контроля
Изготовление прихватки из ткани

№ п/п	Критерии оценки	Количество баллов	По факту
1	Аккуратное и грамотное выполнение раскроя	1	1
2	Размеры прихватки в готовом виде: диаметр 18 мм±1 мм	2	2
3	Сохранение формы круга	2	2
4	Качественное выполнение стежки	3	3
5	Ширина окантовки 5 мм -7мм	2	2
6	Ширина строчки по краю окантовки 1мм-2мм	2	2
7	Наличие петельки для вешалки	1	1
8	Дизайн прихватки (цветовая гамма ниток,ткани)	2	2
9	Качество влажно-тепловой обработки	3	2
10	Аккуратность выполненной работы	3	2
	Итого	20	18



2832

Шифр участника _____

Муниципальный этап всероссийской олимпиады школьников по технологии
2019-2020 учебный год
«Культура дома и декоративно-прикладное искусство»
8-9 класс

Задания теоретического конкурса

1. В Древнем Египте этот овощ был обязательным компонентом меню рабов. Его добавляли к похлебке в профилактических целях. «Главных обитателей пирамид» – фараонов, полагалось хоронить с этим овощем. Считалось, что он может пригодиться по дороге в загробный мир. В Средние века он пользовался не меньшим уважением. Рыцари, трубадуры, знатные дамы и простые крестьянки непременно носили его с собой чтобы защититься от дурного глаза и прочей нечисти. Спустя столетия ученым удалось найти объяснение лечебным свойствам этого овоща. Своей полезностью он прежде всего обязан веществу под названием аллиин, именно он придает овощу остроту и специфический запах. Сам по себе аллиин не приносит организму особой пользы. Но как только вы начинаете резать, давить или жевать его, аллиин превращается в аллицин – природный антибиотик. Аллицин способен справиться с воспалениями, подавить размножение болезнетворных бактерий, повысить иммунитет и защитить от вирусов и инфекций.
О каком овоще идет речь? _____

2. Назовите вид тепловой обработки. Суп - это приготовление пищи в небольшом количестве жидкости (воды, бульона) чуть ниже точки кипения в плотно закрытой посуде. При таком способе готовки максимально сохраняются вкусовые и питательные свойства продуктов.

3. Отметьте знаком «+» все правильные варианты ответов.
Из пшеничной крупы получают:
 а) пшено;
 б) полтавскую крупу;
 в) овсяные хлопья;
 г) манную крупу.

4. Внимите ответ.
Различные виды продуктов обрабатывают на отдельных разделочных досках. Доски различают по буквенным обозначениям. Что означает буквенное обозначение на ребре доски НХ?
Ответ: _____

5. Какая технология имеет отношение к технологиям приготовления пищи?
а) 3D-печать;
 б) фуудлейринг;
в) «умный дом».

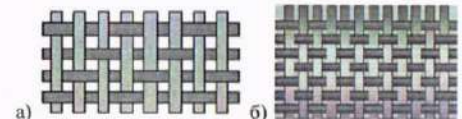
6. Название Капрон (от лат. *crinis*, волос, и *linum*, лен) — изначально жёсткая льняная или хлопковая ткань с основой из конских волос, позднее — жёсткая структура, предназначенная для придания юбке требуемой формы.



7. В современных технологиях широко используется приём, называемый биомиметикой, суть которого состоит в том, чтобы «подсмотреть» и повторить успешное решение проблемы, которое использует сама природа. Так была получена застёжка, принцип действия которой заимствован у репейника. Как она называется? _____



8. Схемы каких ткацких переплетений показаны на рисунке?



Ответ: а) крест-на крест

9. Закончи предложение: Сырьем для получения натурального волокна животного происхождения являются _____ и _____

10. Какие волокна не относятся к синтетическим (выберите несколько вариантов ответов)?
а) акрил;
б) вискоза;
 в) ацетат;
г) нейлон;
д) эластан

11. Восстановите последовательность символов, вписав рядом с цифрой соответствующую букву.

12	а) Не отпаривать
25	б) Гладить при высокой температуре до 200C
38	в) Гладить при средней температуре до 150C
46	г) Можно гладить

0,5

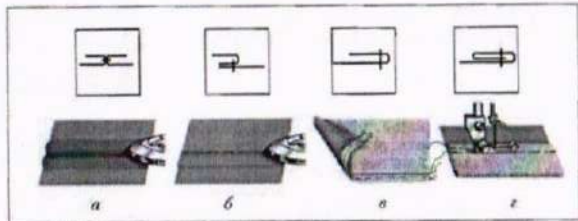
1

12. Какая машинная операция показана на фотографии?

Ответ: _____



13. Внимательно рассмотрите рисунок. Какие машинные швы показаны на рисунке?



Ответ:

- а) *сметочный. В разутюжку*
 б) *широкий в разутюжку в разутюжку*
 в) *с отложившейся средин.*
 г) *с заданной средин.*


14. Для обметывания срезов деталей из сильноосыпающихся тканей выбирают зигзагообразную строчку:

- а) с большой шириной стежка и малой длиной стежка;
 б) с большой шириной стежка и большой длиной стежка;
 в) с маленькой шириной стежка и большой длиной стежка;
 г) с маленькой шириной стежка и маленькой длиной стежка.


15. Определите и подпишите названия представленных ниже вариантов складок на юбке.



а) _____



б) _____



в) _____

16. Какую мерку необходимо учитывать при расчете ширины прямой юбки:
 а) Сш б) Ст в) Сб г) Дтс д) Ди

17. Расширение прямой юбки по линии низа может быть выполнено:

- а) увеличением ширины заднего полотнища
 б) увеличением ширины переднего полотнища
 в) закрытием вытачек по линии талии
 г) дополнительными разрезами

18. Технику, в которой выполнена эта работа порой называют живописью на ткани. Известна она с глубокой древности и каждый народ привнес в неё свои неповторимые особенности. Как называется данная техника?

Ответ: _____



19. Умеренный полив комнатных растений – это полив:

- а) каждый день;
 б) через день-два;
 в) раз в неделю;
 г) раз в месяц.

20. Какие комнатные растения можно использовать в лечебных целях?

- а) алоэ
 б) диффенбахия;
 в) каланхоэ;
 г) фикус;
 д) герань.

21. Какие современные напольные покрытия вы знаете? Запишите три из них.

Ответ: _____

22. Как называется горизонтальная декоративная драпировка, расположенная в верхней части шторной композиции, проёма окна или двери в виде короткого декоративного элемента во всю ширину карниза?

Ответ: _____

23. Для комфортного проживания интерьер комнаты зонирован. Посмотрите внимательно на проект комнаты. На какие зоны комната девочки поделена?

*Девочка поделена 3
 зонами*



15

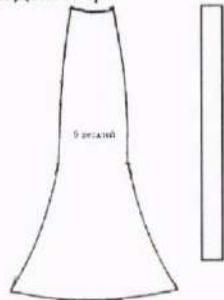
24. Вставьте пропущенное слово, выбрав его из представленного ниже списка.

Под «умным» домом следует понимать систему, которая обеспечивает безопасность, ресурсосбережение и комфорт для всех пользователей.
Слова для выбора: стабильность, надежность, безопасность, эстетичность.

25. Творческое задание.

Даны детали кроя юбки.

1. Проставьте номера на деталях кроя. В соответствии с номерами подпишите названия и количество деталей кроя.
 2. Выполните эскиз модели в соответствии с деталями кроя.
 3. Опишите внешний вид модели по предложенной форме.
1. Детали кроя



- 1 - 4 детали.
- 2 - прямая юбка, ствол, стилизованная юбка.



35

35

**Муниципальный этап всероссийской олимпиады школьников по технологии
2019-2020 учебный год
«Культура дома и декоративно-прикладное искусство»
8-9 класс
Практическое задание по моделированию**

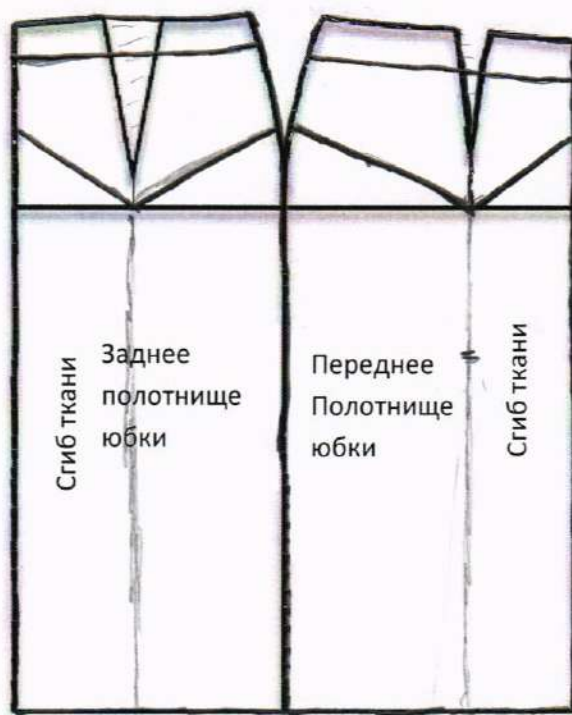
Задание:

1. Внимательно прочитайте описание модели и рассмотрите эскиз.
2. Найдите различия с базовой конструкцией юбки (см. «Чертеж основы прямой юбки»).
3. В соответствии с эскизом нанесите новые фасонные линии и обозначьте ваши действия по моделированию на чертеже основы юбки (см. «Контроль практического задания»). Используйте для этого стрелки, значки, список, алгоритм действий и т. д.
4. Перенесите линии фасона на шаблон из цветной бумаги.
5. Изготовьте из цветной бумаги детали выкройки для раскладки на ткань.
6. Аккуратно наклейте детали выкройки на лист «Результаты моделирования».
7. Нанесите на детали выкройки необходимые надписи для раскроя.

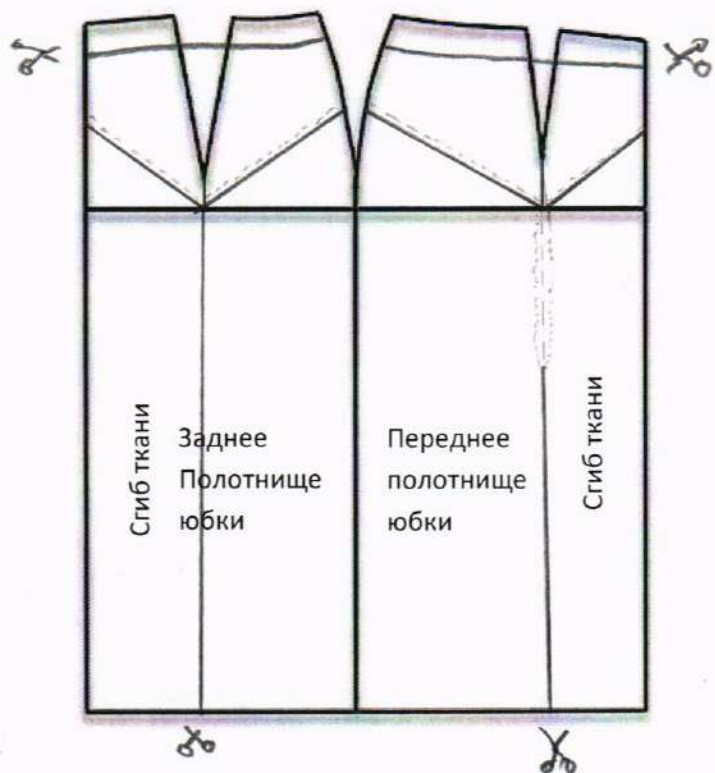
Эскиз	Описание модели
	<p>Юбка из шерстяной ткани незначительно расширенная к низу, выкроенная по долевой нити.</p> <p>Переднее и заднее полотнище оформлены фигурной «М»-образной кокеткой.</p> <p>С начала углов кокетки на заднем и переднем полотнище юбки заложены встречные складки.</p> <p>Средний шов на заднем полотнище отсутствует.</p> <p>Линия талии оформлена притачным поясом.</p> <p>Застежка «молния» находится в левом боковом шве.</p>

6,55



Чертеж основы прямой юбки



Контроль практического задания



Результаты моделирования



подол.



232

Карта пооперационного контроля
Изготовление прихватки из ткани

№ п/п	Критерии оценки	Количество баллов	По факту
1	Аккуратное и грамотное выполнение раскроя	1	1
2	Размеры прихватки в готовом виде: диаметр 18 мм±1 мм	2	0
3	Сохранение формы круга	2	2
4	Качественное выполнение стежки	3	1
5	Ширина окантовки 5 мм -7мм	2	2
6	Ширина строчки по краю окантовки 1мм-2мм	2	1
7	Наличие петельки для вешалки	2	2
8	Дизайн прихватки (цветовая гамма ниток,ткани)	1	1
9	Качество влажно-тепловой обработки	2	2
10	Аккуратность выполненной работы да/нет	3	2
Итого		20	15



№222.

Шифр участника _____

**Муниципальный этап всероссийской олимпиады школьников по
технологии
2019-2020 учебный год
«Культура дома и декоративно-прикладное искусство»
8-9 класс
Задания теоретического конкурса**

1. В Древнем Египте этот овощ был обязательным компонентом меню рабов. Его добавляли к похлебке в профилактических целях. «Главных обитателей пирамид» – фараонов, полагалось хоронить с этим овощем. Считалось, что он может пригодиться по дороге в загробный мир. В Средние века он пользовался не меньшим уважением. Рыцари, трубадуры, знатные дамы и простые крестьянки непременно носили его с собой чтобы защититься от дурного глаза и прочей нечисти. Спустя столетия ученым удалось найти объяснение лечебным свойствам этого овоща. Своей полезностью он прежде всего обязан веществу под названием аллиин, именно он придает овощу остроту и специфический запах. Сам по себе аллиин не приносит организму особой пользы. Но как только вы начинаете резать, давить или жевать его, аллиин превращается в аллицин – природный антибиотик. Аллицин способен справиться с воспалениями, подавить размножение болезнетворных бактерий, повысить иммунитет и защитить от вирусов и инфекций.
О каком овоще идет речь? _____

2. Назовите вид тепловой обработки. варка - это приготовление пищи в небольшом количестве жидкости (воды, бульона) чуть ниже точки кипения в плотно закрытой посуде. При таком способе готовки максимально сохраняются вкусовые и питательные свойства продуктов.

3. Отметьте знаком «+» все правильные варианты ответов.
Из пшеничной крупы получают:
а) пшено;
+ б) полтавскую крупу;
в) овсяные хлопья;
+ г) манную крупу.

4. Внимайте ответ.
Различные виды продуктов обрабатывают на отдельных разделочных досках. Доски различают по буквенным обозначениям. Что означает буквенное обозначение на ребре доски НХ?
Ответ: нарезка хлеба

5. Какая технология имеет отношение к технологиям приготовления пищи?
а) 3D-печать;
+ б) фудпейринг;
в) «умный дом».

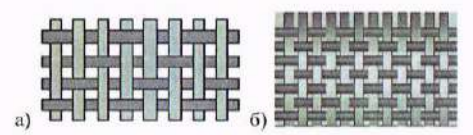
6. Название кансет (от лат. *crinis*, волос, и *linum*, лён) — изначально жесткая льняная или хлопковая ткань с основой из конских волос, позднее — жесткая структура, предназначенная для придания юбке требуемой формы.



7. В современных технологиях широко используется приём, называемый биомиметикой, суть которого состоит в том, чтобы «подсмотреть» и повторить успешное решение проблемы, которое использует сама природа. Так была получена застёжка, принцип действия которой заимствован у репейника. Как она называется? _____



8. Схемы каких ткацких переплетений показаны на рисунке?



Ответ: _____

9. Закончи предложение: Сырьем для получения натурального волокна животного происхождения являются шерсть и хлопок

10. Какие волокна не относятся к синтетическим (выберите несколько вариантов ответов)?
+ а) акрил;
+ б) вискоза;
в) ацетат;
г) нейлон;
+ д) эластан.

11. Восстановите последовательность символов, вписав рядом с цифрой соответствующую букву.

1.		а) Не отпаривать
2.		б) Гладить при высокой температуре до 200С
3.		в) Гладить при средней температуре до 150С
4.		г) Можно гладить

0,5

0,3

1

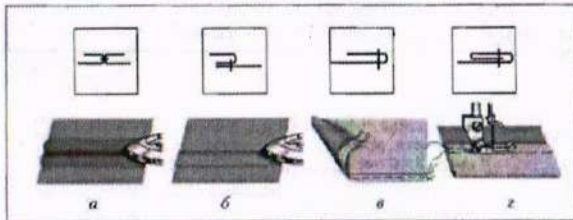
12. Какая машинная операция показана на фотографии?

Ответ:

швейная машина



13. Внимательно рассмотрите рисунок. Какие машинные швы показаны на рисунке?



Ответ:

- а) вытяжной
- б) зигзагообразный
- в) обратной
- г) _____

14. Для обметывания срезов деталей из сильноосыпающихся тканей выбирают зигзагообразную строчку:

- а) с большой шириной стежка и малой длиной стежка;
- б) с большой шириной стежка и большой длиной стежка;
- в) с маленькой шириной стежка и большой длиной стежка;
- г) с маленькой шириной стежка и маленькой длиной стежка.


15. Определите и подпишите названия представленных ниже вариантов складок на юбке.



а) _____



б) _____



в) _____

16. Какую мерку необходимо учитывать при расчете ширины прямой юбки:

- а) Сш
- б) Ст
- в) Сб
- г) Дгс
- д) Дн

17. Расширение прямой юбки по линии низа может быть выполнено:

- а) увеличением ширины заднего полотнища
- б) увеличением ширины переднего полотнища
- в) закрытием вытачек по линии талии
- г) дополнительными разрезами

18. Технику, в которой выполнена эта работа порой называют живописью на ткани. Известна она с глубокой древности и каждый народ привнес в неё свои неповторимые особенности. Как называется данная техника?

Ответ:

набросок рисунка в

ткань



19. Умеренный полив комнатных растений – это полив:

- а) каждый день;
- б) через день-два;
- в) раз в неделю;
- г) раз в месяц.

20. Какие комнатные растения можно использовать в лечебных целях?

- а) алоэ
- б) диффенбахия;
- в) каланхоэ;
- г) плющ;
- д) герань.

21. Какие современные напольные покрытия вы знаете? Запишите три из них.

Ответ: _____

22. Как называется горизонтальная декоративная драпировка, расположенная в верхней части шторной композиции, проёма окна или двери в виде короткого декоративного элемента во всю ширину карниза?

Ответ: _____

23. Для комфортного проживания интерьер комнаты зонирован. Посмотрите внимательно на проект комнаты. На какие зоны комната девочки поделена?

рабочая



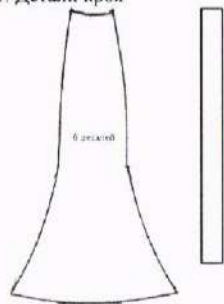
24. Вставьте пропущенное слово, выбрав его из представленного ниже списка.

Под «умным» домом следует понимать систему, которая обеспечивает безопасность, ресурсосбережение и комфорт для всех пользователей.
Слова для выбора: стабильность, надежность, безопасность, эстетичность.

25. Творческое задание.

Даны детали кроя юбки.

1. Проставьте номера на деталях кроя. В соответствии с номерами подпишите названия и количество деталей кроя.
2. Выполните эскиз модели в соответствии с деталями кроя.
3. Опишите внешний вид модели по предложенной форме.



- 1 - _____
 - 2 - _____
2. Эскиз

8, 1

**Муниципальный этап всероссийской олимпиады школьников по технологии
2019-2020 учебный год
«Культура дома и декоративно-прикладное искусство»
8-9 класс**

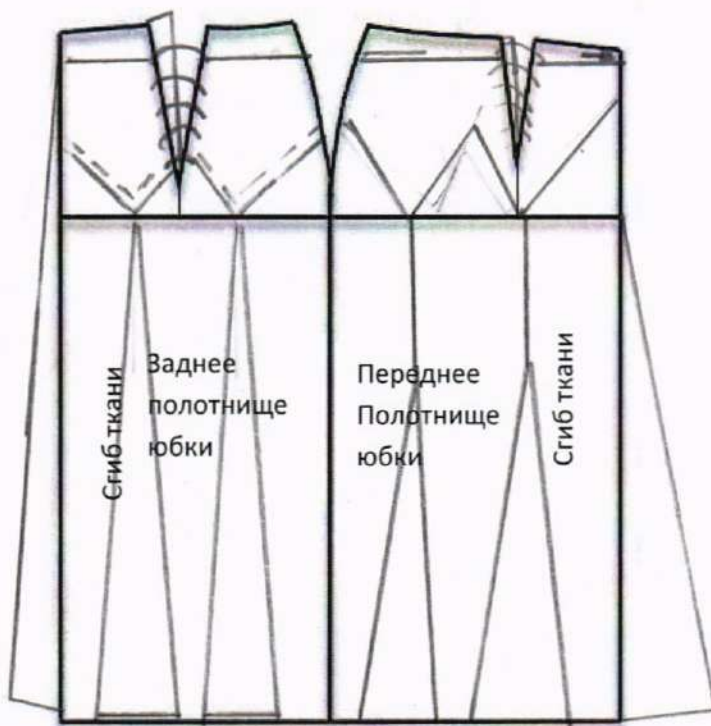
Практическое задание по моделированию

Задание:

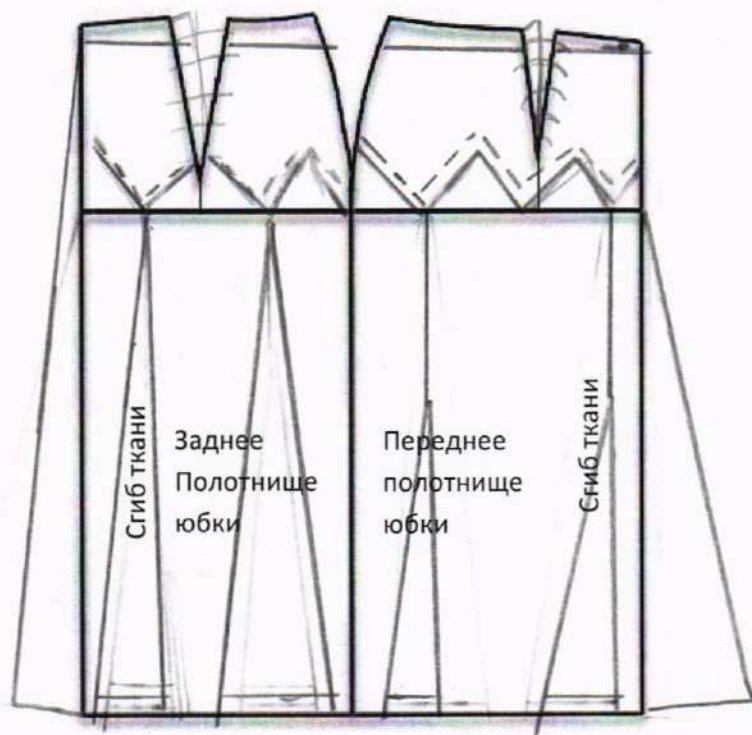
1. Внимательно прочитайте описание модели и рассмотрите эскиз.
2. Найдите различия с базовой конструкцией юбки (см. «Чертеж основы прямой юбки»).
3. В соответствии с эскизом нанесите новые фасонные линии и обозначьте ваши действия по моделированию на чертеже основы юбки (см. «Контроль практического задания»). Используйте для этого стрелки, значки, список, алгоритм действий и т. д.
4. Перенесите линии фасона на шаблон из цветной бумаги.
5. Изготовьте из цветной бумаги детали выкройки для раскладки на ткань.
6. Аккуратно наклейте детали выкройки на лист «Результаты моделирования».
7. Нанесите на детали выкройки необходимые надписи для раскроя.

Эскиз	Описание модели
	<p>Юбка из шерстяной ткани незначительно расширенная к низу, выкроенная по долевой нити.</p> <p>Переднее и заднее полотнище оформлены фигурной «М»-образной кокеткой.</p> <p>С начала углов кокетки на заднем и переднем полотнище юбки заложены встречные складки.</p> <p>Средний шов на заднем полотнище отсутствует.</p> <p>Линия талии оформлена притачным поясом.</p> <p>Застежка «молния» находится в левом боковом шве.</p>

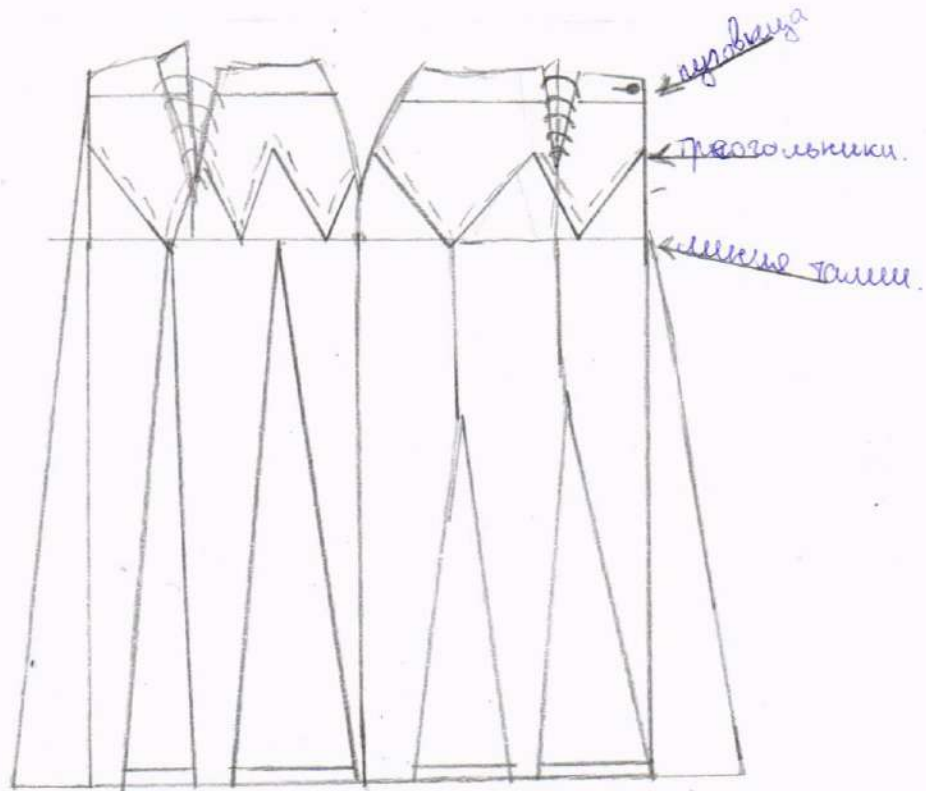
Чертеж основы прямой юбки



Контроль практического задания



Результаты моделирования



222

Карта пооперационного контроля
Изготовление прихватки из ткани

№ п/п	Критерии оценки	Количество баллов	По факту
1	Аккуратное и грамотное выполнение раскроя	1	0
2	Размеры прихватки в готовом виде: диаметр 18 мм ± 1 мм	2	2
3	Сохранение формы круга	2	2
4	Качественное выполнение стежки	3	1
5	Ширина окантовки 5 мм - 7 мм	2	0
6	Ширина строчки по краю окантовки 1 мм - 2 мм	2	0
7	Наличие петельки для вешалки	2	0
8	Дизайн прихватки (цветовая гамма ниток, ткани)	1	1
9	Качество влажно-тепловой обработки	2	1
10	Аккуратность выполненной работы да/нет	3	1
	Итого	20	8.

